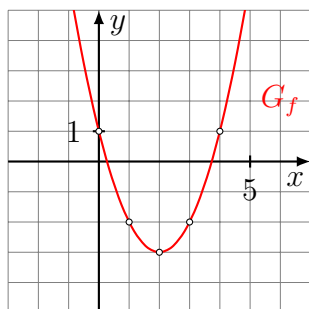


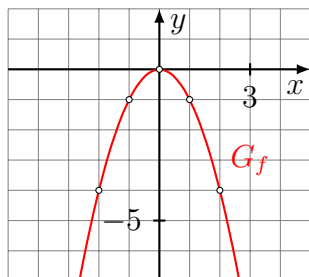
Aufgabe 1

Gib eine Gleichung der Funktion mit dem abgebildeten Graphen an.



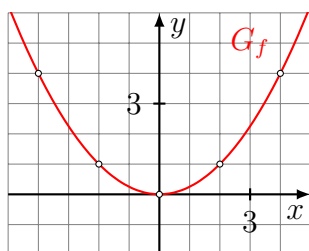
Aufgabe 2

Gib eine Gleichung der Funktion mit dem abgebildeten Graphen an.



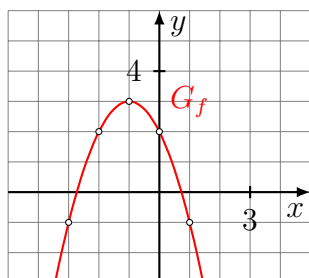
Aufgabe 3

Gib eine Gleichung der Funktion mit dem Graphen G_f an.



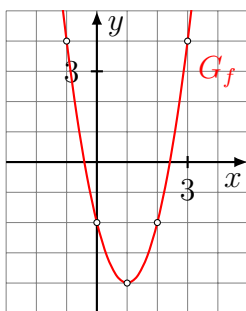
Aufgabe 4

Gib eine Gleichung der Funktion mit dem Graphen G_f an.



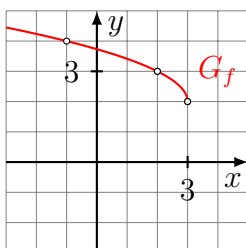
Aufgabe 5

Gib eine Gleichung der Funktion mit dem Graphen G_f an.



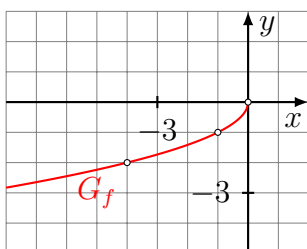
Aufgabe 6

Gib eine Gleichung der Funktion mit dem Graphen G_f an.



Aufgabe 7

Gib eine Gleichung der Funktion mit dem Graphen G_f an.



Aufgabe 8

Gib eine Gleichung der Funktion mit dem Graphen G_f an.

