

Das Differenzial

Übungen

Aufgabe 1

Bestimme die Differenziale der Funktionen.

(a) $x(t) = A \cdot \sin(\omega t - \delta)$

(b) $W(h) = m \cdot g \cdot h$

(c) $s(t) = \frac{1}{2}a_0 t^2 + v_0 t + s_0$

(d) $p(t) = m v(t)$

Aufgabe 1

(a) $dx = A\omega \sin(\omega t - \delta) dt$

Aufgabe 1

(a) $dx = A\omega \sin(\omega t - \delta) dt$

(b) $dW = m \cdot g \cdot dh$

Aufgabe 1

(a) $dx = A\omega \sin(\omega t - \delta) dt$

(b) $dW = m \cdot g \cdot dh$

(c) $ds = (a_0 t + v_0) dt$

Aufgabe 1

(a) $dx = A\omega \sin(\omega t - \delta) dt$

(b) $dW = m \cdot g \cdot dh$

(c) $ds = (a_0 t + v_0) dt$

(d) $dp = m \cdot dv(t) = m \cdot \frac{dv}{dt} \cdot dt = m \cdot a(t) \cdot dt$

Aufgabe 2

Bestimme das Differenzial bezüglich des angegebenen Arguments.
Die übrigen Variablen können als konstant angenommen werden.

$$(a) \quad s(t) = s_0 + v_0 t + \frac{1}{2} a t^2$$

$$(b) \quad F(r) = G \frac{m_1 m_2}{r^2}$$

$$(c) \quad p(h) = p_0 \left(1 - \frac{\alpha \cdot h}{T_0} \right)^\beta$$

Aufgabe 2

$$(a) \quad ds = (v_0 + at) dt$$

$$(b) \quad dF = -G \frac{m_1 m_2}{2r^3} dr$$

$$(c) \quad dp = -\frac{p_0 \alpha \beta}{T_0} \left(1 - \frac{\alpha \cdot h}{T_0}\right)^{\beta-1} dh$$

Aufgabe 3

Eine Strecke von 1.8 km werde in 0.47 h zurückgelegt. Beide Größen weisen eine relative Fehlerschranke von 5% auf. Berechne die mittlere Geschwindigkeit mit absoluter und relativer Fehlerschranke.

Aufgabe 3

$$s = (1.8 \pm 0.09) \text{ km}$$

$$t = (0.47 \pm 0.024) \text{ h}$$

$$v = \frac{s}{t}$$

Aufgabe 3

$$s = (1.8 \pm 0.09) \text{ km}$$

$$t = (0.47 \pm 0.024) \text{ h}$$

$$v = \frac{s}{t}$$

$$\begin{aligned}\Delta v &\approx \left| \frac{\partial v}{\partial s} \right| \cdot \Delta s + \left| \frac{\partial v}{\partial t} \right| \cdot \Delta t = \left| \frac{1}{t} \right| \cdot \Delta s + \left| -\frac{s}{t^2} \right| \cdot \Delta t \\ &= \frac{1}{0.47 \text{ h}} \cdot 0.09 \text{ km} + \frac{1.8 \text{ km}}{0.47^2 \text{ h}^2} \cdot 0.024 \text{ h} = 0.39 \frac{\text{km}}{\text{h}}\end{aligned}$$

Aufgabe 3

$$s = (1.8 \pm 0.09) \text{ km}$$

$$t = (0.47 \pm 0.024) \text{ h}$$

$$v = \frac{s}{t}$$

$$\begin{aligned}\Delta v &\approx \left| \frac{\partial v}{\partial s} \right| \cdot \Delta s + \left| \frac{\partial v}{\partial t} \right| \cdot \Delta t = \left| \frac{1}{t} \right| \cdot \Delta s + \left| -\frac{s}{t^2} \right| \cdot \Delta t \\ &= \frac{1}{0.47 \text{ h}} \cdot 0.09 \text{ km} + \frac{1.8 \text{ km}}{0.47^2 \text{ h}^2} \cdot 0.024 \text{ h} = 0.39 \frac{\text{km}}{\text{h}}\end{aligned}$$

$$v = \frac{s}{t} = \frac{1.8 \text{ km}}{0.47 \text{ h}} = 3.83 \frac{\text{km}}{\text{h}}$$

Aufgabe 3

$$s = (1.8 \pm 0.09) \text{ km}$$

$$t = (0.47 \pm 0.024) \text{ h}$$

$$v = \frac{s}{t}$$

$$\Delta v \approx \left| \frac{\partial v}{\partial s} \right| \cdot \Delta s + \left| \frac{\partial v}{\partial t} \right| \cdot \Delta t = \left| \frac{1}{t} \right| \cdot \Delta s + \left| -\frac{s}{t^2} \right| \cdot \Delta t$$

$$= \frac{1}{0.47 \text{ h}} \cdot 0.09 \text{ km} + \frac{1.8 \text{ km}}{0.47^2 \text{ h}^2} \cdot 0.024 \text{ h} = 0.39 \frac{\text{km}}{\text{h}}$$

$$v = \frac{s}{t} = \frac{1.8 \text{ km}}{0.47 \text{ h}} = 3.83 \frac{\text{km}}{\text{h}}$$

$$v = (3.83 \pm 0.39) \frac{\text{km}}{\text{h}} \quad (\text{absolut})$$

Aufgabe 3

$$s = (1.8 \pm 0.09) \text{ km}$$

$$t = (0.47 \pm 0.024) \text{ h}$$

$$v = \frac{s}{t}$$

$$\Delta v \approx \left| \frac{\partial v}{\partial s} \right| \cdot \Delta s + \left| \frac{\partial v}{\partial t} \right| \cdot \Delta t = \left| \frac{1}{t} \right| \cdot \Delta s + \left| -\frac{s}{t^2} \right| \cdot \Delta t$$

$$= \frac{1}{0.47 \text{ h}} \cdot 0.09 \text{ km} + \frac{1.8 \text{ km}}{0.47^2 \text{ h}^2} \cdot 0.024 \text{ h} = 0.39 \frac{\text{km}}{\text{h}}$$

$$v = \frac{s}{t} = \frac{1.8 \text{ km}}{0.47 \text{ h}} = 3.83 \frac{\text{km}}{\text{h}}$$

$$v = (3.83 \pm 0.39) \frac{\text{km}}{\text{h}} \quad (\text{absolut})$$

$$\frac{\Delta v}{v} = \frac{0.39}{3.83} = 0.10 \quad (\text{relativ})$$

Aufgabe 4

Ein Zimmer wird eingerichtet. An einer Wand sollen ein Bett, ein Schrank und ein Tisch nebeneinander stehen. Mit einem Messband wurden folgende Längen bestimmt:

- ▶ Bett: 2 Meter
- ▶ Schrank: 80 cm
- ▶ Tisch: 1 Meter

Gemäss Wohnungsgrundriss beträgt die Länge der Wand 3.85 m. Passen alle drei Möbelstücke nebeneinander an die Wand, wenn mit einer Genauigkeit von ± 3 cm gemessen wurde?

Aufgabe 4

- ▶ Bett: $s_1 = 2 \text{ m} \pm 0.03 \text{ m}$
- ▶ Schrank: $s_2 = 0.8 \text{ m} \pm 0.03 \text{ m}$
- ▶ Tisch: $s_3 = 1.0 \text{ m} \pm 0.03 \text{ m}$

Aufgabe 4

- ▶ Bett: $s_1 = 2 \text{ m} \pm 0.03 \text{ m}$
- ▶ Schrank: $s_2 = 0.8 \text{ m} \pm 0.03 \text{ m}$
- ▶ Tisch: $s_3 = 1.0 \text{ m} \pm 0.03 \text{ m}$

$$s = s_1 + s_2 + s_3$$

Aufgabe 4

- ▶ Bett: $s_1 = 2 \text{ m} \pm 0.03 \text{ m}$
- ▶ Schrank: $s_2 = 0.8 \text{ m} \pm 0.03 \text{ m}$
- ▶ Tisch: $s_3 = 1.0 \text{ m} \pm 0.03 \text{ m}$

$$s = s_1 + s_2 + s_3$$

$$\Delta s = \left| \frac{\partial s}{\partial s_1} \right| \cdot \Delta s_1 + \left| \frac{\partial s}{\partial s_2} \right| \cdot \Delta s_2 + \left| \frac{\partial s}{\partial s_3} \right| \cdot \Delta s_3$$

$$= 1 \cdot \Delta s_1 + 1 \cdot \Delta s_2 + 1 \cdot \Delta s_3 = 3 \cdot 0.03 \text{ m} = 0.09 \text{ m}$$

Aufgabe 4

- ▶ Bett: $s_1 = 2 \text{ m} \pm 0.03 \text{ m}$
- ▶ Schrank: $s_2 = 0.8 \text{ m} \pm 0.03 \text{ m}$
- ▶ Tisch: $s_3 = 1.0 \text{ m} \pm 0.03 \text{ m}$

$$s = s_1 + s_2 + s_3$$

$$\Delta s = \left| \frac{\partial s}{\partial s_1} \right| \cdot \Delta s_1 + \left| \frac{\partial s}{\partial s_2} \right| \cdot \Delta s_2 + \left| \frac{\partial s}{\partial s_3} \right| \cdot \Delta s_3$$

$$= 1 \cdot \Delta s_1 + 1 \cdot \Delta s_2 + 1 \cdot \Delta s_3 = 3 \cdot 0.03 \text{ m} = 0.09 \text{ m}$$

$$s = s_1 + s_2 + s_3 = 2.0 + 0.8 + 1.0 = 3.8 \text{ m}$$

Aufgabe 4

- ▶ Bett: $s_1 = 2 \text{ m} \pm 0.03 \text{ m}$
- ▶ Schrank: $s_2 = 0.8 \text{ m} \pm 0.03 \text{ m}$
- ▶ Tisch: $s_3 = 1.0 \text{ m} \pm 0.03 \text{ m}$

$$s = s_1 + s_2 + s_3$$

$$\Delta s = \left| \frac{\partial s}{\partial s_1} \right| \cdot \Delta s_1 + \left| \frac{\partial s}{\partial s_2} \right| \cdot \Delta s_2 + \left| \frac{\partial s}{\partial s_3} \right| \cdot \Delta s_3$$

$$= 1 \cdot \Delta s_1 + 1 \cdot \Delta s_2 + 1 \cdot \Delta s_3 = 3 \cdot 0.03 \text{ m} = 0.09 \text{ m}$$

$$s = s_1 + s_2 + s_3 = 2.0 + 0.8 + 1.0 = 3.8 \text{ m}$$

$$s = (3.80 \pm 0.09) \text{ m}$$

Aufgabe 4

- ▶ Bett: $s_1 = 2 \text{ m} \pm 0.03 \text{ m}$
- ▶ Schrank: $s_2 = 0.8 \text{ m} \pm 0.03 \text{ m}$
- ▶ Tisch: $s_3 = 1.0 \text{ m} \pm 0.03 \text{ m}$

$$s = s_1 + s_2 + s_3$$

$$\Delta s = \left| \frac{\partial s}{\partial s_1} \right| \cdot \Delta s_1 + \left| \frac{\partial s}{\partial s_2} \right| \cdot \Delta s_2 + \left| \frac{\partial s}{\partial s_3} \right| \cdot \Delta s_3$$

$$= 1 \cdot \Delta s_1 + 1 \cdot \Delta s_2 + 1 \cdot \Delta s_3 = 3 \cdot 0.03 \text{ m} = 0.09 \text{ m}$$

$$s = s_1 + s_2 + s_3 = 2.0 + 0.8 + 1.0 = 3.8 \text{ m}$$

$$s = (3.80 \pm 0.09) \text{ m}$$

Bei einer Wandlänge von 3.85 m passen die drei Möbelstücke möglicherweise nicht mehr nebeneinander an die Wand.

Aufgabe 5

Für eine Grösse F gilt $F(A, B) = c \cdot A \cdot B$ wobei c eine Konstante und A, B Grössen mit den Maximalfehlern $\pm\Delta A$ bzw. $\pm\Delta B$ sind. Zeige, dass der relative Fehler von F die Summe der relativen Fehler von A und B ist.

Aufgabe 5

$$F(A, B) = c \cdot A \cdot B$$

$$\Delta F = \left| \frac{\partial F}{\partial A} \right| \cdot \Delta A + \left| \frac{\partial F}{\partial B} \right| \cdot \Delta B = |c \cdot B| \cdot \Delta A + |c \cdot A| \cdot \Delta B$$

$$\frac{\Delta F}{|F|} = \frac{|c \cdot B| \cdot \Delta A + |c \cdot A| \cdot \Delta B}{|c \cdot A \cdot B|} = \frac{\Delta A}{|A|} + \frac{\Delta B}{|B|}$$

Aufgabe 6

Bestimme das (un)bestimmte Integral mit einer Typ-1-Substitution.

(a) $\int \frac{\ln x}{x} dx$

(b) $\int_1^2 \frac{2z + 1}{z^2 + z} dz$

Aufgabe 6

$$(a) \quad u = \ln x \Rightarrow du = \frac{1}{x} \cdot dx \Rightarrow dx = x \cdot du$$

Aufgabe 6

$$(a) \quad u = \ln x \Rightarrow du = \frac{1}{x} \cdot dx \Rightarrow dx = x \cdot du$$

$$\int \frac{\ln x}{x} dx = \int \frac{u}{x} \cdot x du = \int u du$$

$$= \frac{1}{2} u^2 + \tilde{C} = \frac{1}{2} (\ln x)^2 + C$$

$$(b) \quad u = z^2 + z \Rightarrow du = (2z + 1) \cdot dz \Rightarrow dz = \frac{1}{2z + 1} \cdot du$$

Aufgabe 6

$$(a) \quad u = \ln x \Rightarrow du = \frac{1}{x} \cdot dx \Rightarrow dx = x \cdot du$$

$$\begin{aligned} \int \frac{\ln x}{x} dx &= \int \frac{u}{x} \cdot x du = \int u du \\ &= \frac{1}{2} u^2 + \tilde{C} = \frac{1}{2} (\ln x)^2 + C \end{aligned}$$

$$(b) \quad u = z^2 + z \Rightarrow du = (2z + 1) \cdot dz \Rightarrow dz = \frac{1}{2z + 1} \cdot du$$

$$\begin{aligned} \int_1^2 \frac{2z + 1}{z^2 + z} dz &= \int_2^6 \frac{2z + 1}{u} \cdot \frac{1}{2z + 1} du = \int_2^6 \frac{1}{u} du \\ &= [\ln u]_2^6 = \ln 6 - \ln 2 = \ln 3 \end{aligned}$$

Aufgabe 6

$$(a) \quad u = \ln x \Rightarrow du = \frac{1}{x} \cdot dx \Rightarrow dx = x \cdot du$$

$$\begin{aligned} \int \frac{\ln x}{x} dx &= \int \frac{u}{x} \cdot x du = \int u du \\ &= \frac{1}{2} u^2 + \tilde{C} = \frac{1}{2} (\ln x)^2 + C \end{aligned}$$

$$(b) \quad u = z^2 + z \Rightarrow du = (2z + 1) \cdot dz \Rightarrow dz = \frac{1}{2z + 1} \cdot du$$

$$\begin{aligned} \int_1^2 \frac{2z + 1}{z^2 + z} dz &= \int_2^6 \frac{2z + 1}{u} \cdot \frac{1}{2z + 1} du = \int_2^6 \frac{1}{u} du \\ &= [\ln u]_2^6 = \ln 6 - \ln 2 = \ln 3 \end{aligned}$$

$$(c) \quad u = \sin x \Rightarrow du = \cos x \cdot dx \Rightarrow dx = \frac{1}{\cos x} \cdot du$$

$$(c) \quad u = \sin x \Rightarrow du = \cos x \cdot dx \Rightarrow dx = \frac{1}{\cos x} \cdot du$$

$$\begin{aligned} \int_0^{\pi/2} \sin x \cdot \cos x \, dx &= \int_0^1 u \cdot \cos x \cdot \frac{1}{\cos x} \, du = \int_0^1 u \, du \\ &= \left[\frac{1}{2} u^2 \right]_0^1 = 0.5 - 0 = 0.5 \end{aligned}$$

Aufgabe 7

Bestimme das (un)bestimmte Integral mit der vorgegebenen Typ-2-Substitution.

$$(a) \int_0^1 e^x \sqrt{e^x + 1} dx, \quad x(t) = \ln t$$

$$(b) \int_1^3 \frac{1}{x} \ln x^2 dx, \quad x(t) = e^t$$

$$(c) \int_0^1 \frac{1}{1 + \sqrt{x}} dx, \quad x(t) = t^2$$

Aufgabe 7

$$(a) \quad x(t) = \ln t \quad \Rightarrow \quad dx = \frac{1}{t} dt$$

Aufgabe 7

$$(a) \quad x(t) = \ln t \quad \Rightarrow \quad dx = \frac{1}{t} dt$$

$$x_1 = 0 = \ln t \Rightarrow t_1 = 1$$

$$x_2 = 1 = \ln t \Rightarrow t_2 = e$$

Aufgabe 7

$$(a) \quad x(t) = \ln t \quad \Rightarrow \quad dx = \frac{1}{t} dt$$

$$x_1 = 0 = \ln t \Rightarrow t_1 = 1$$

$$x_2 = 1 = \ln t \Rightarrow t_2 = e$$

$$\begin{aligned} \int_0^1 e^x \sqrt{e^x + 1} dx &= \int_1^e e^{\ln t} \sqrt{e^{\ln t} + 1} \cdot \frac{1}{t} dt \\ &= \int_1^e t \sqrt{t + 1} \cdot \frac{1}{t} dt \\ &= \int_1^e \sqrt{t + 1} dt = \left[\frac{2}{3} (t + 1)^{3/2} \right]_1^e \\ &= \frac{2}{3} [(e + 1)^{3/2} - 2^{3/2}] \approx 2.89 \end{aligned}$$

$$(b) \quad x(t) = e^t$$

$$dx = e^t dt$$

$$(b) \quad x(t) = e^t$$

$$dx = e^t dt$$

$$x_1 = 1 = e^t \Rightarrow t_1 = 0$$

$$x_2 = 3 = e^t \Rightarrow t_2 = \ln 3$$

$$(b) \quad x(t) = e^t$$

$$dx = e^t dt$$

$$x_1 = 1 = e^t \Rightarrow t_1 = 0$$

$$x_2 = 3 = e^t \Rightarrow t_2 = \ln 3$$

$$\begin{aligned} \int_1^3 \frac{1}{x} \ln x^2 dx &= \int_0^{\ln 3} \frac{1}{e^t} \ln (e^t)^2 \cdot e^t dt = \int_0^{\ln 3} 2t dt \\ &= [t^2]_0^{\ln 3} = (\ln 3)^2 = 1.207 \end{aligned}$$

$$(c) \quad x(t) = t^2$$

$$dx = 2t dt$$

$$(c) \quad x(t) = t^2$$

$$dx = 2t dt$$

$$x_1 = 0 = t^2 \Rightarrow t_1 = 0$$

$$x_2 = 1 = t^2 \Rightarrow t_2 = 1$$

$$(c) \quad x(t) = t^2$$

$$dx = 2t dt$$

$$x_1 = 0 = t^2 \Rightarrow t_1 = 0$$

$$x_2 = 1 = t^2 \Rightarrow t_2 = 1$$

$$\begin{aligned} \int_0^1 \frac{1}{1 + \sqrt{x}} dx &= \int_0^1 \frac{1}{1 + \sqrt{t^2}} \cdot 2t dt \\ &= \int_0^1 \frac{2t}{1+t} dt = \int_0^1 \left(2 - \frac{2}{t+1} \right) dt \\ &= 2 \int_0^1 1 dt - 2 \int_0^1 \frac{1}{t+1} dt \\ &= 2[t]_0^1 - 2[\ln(t+1)]_0^1 = 2 - 2\ln 2 = 0.614 \end{aligned}$$

Aufgabe 8

Berechne die Bogenlängen des Graphen von f für $x \in I$. Die in den Aufgaben (d)–(f) entstehenden Integrale können mit dem Taschenrechner berechnet werden.

(a) $f(x) = 4, I = [5, 9]$

(b) $f(x) = 2x, I = [1, 3]$

(c) $f(x) = \frac{2}{3}(x-1)^{3/2}, I = [0, 9]$

(d) $f(x) = x^2, I = [0, 2]$

(e) $f(x) = \sqrt{x}, I = [0, 4]$

(f) $f(x) = e^x, I = [0, 1]$

Aufgabe 8

$$\begin{aligned} \text{(a) } s &= \int_5^9 \sqrt{1 + [(4)']^2} dx = \int_5^9 \sqrt{1} dx = [x]_5^9 \\ &= 9 - 5 = 4 \end{aligned}$$

Aufgabe 8

$$\begin{aligned} \text{(a)} \quad s &= \int_5^9 \sqrt{1 + [(4)']^2} dx = \int_5^9 \sqrt{1} dx = [x]_5^9 \\ &= 9 - 5 = 4 \end{aligned}$$

$$\begin{aligned} \text{(b)} \quad s &= \int_1^3 \sqrt{1 + [(2x)']^2} dx = \int_1^3 \sqrt{1 + 4} dx \\ &= \int_1^3 \sqrt{5} dx = \sqrt{5} [x]_1^3 = 2\sqrt{5} \end{aligned}$$

$$\begin{aligned} \text{(c) } s &= \int_0^9 \sqrt{1 + \left[\left(\frac{2}{3}(x-1)^{\frac{3}{2}} \right)' \right]^2} dx \\ &= \int_0^9 \sqrt{1 + [(x-1)^{\frac{1}{2}}]^2} dx \\ &= \int_0^9 \sqrt{x} dx = \left[\frac{2}{3}x^{\frac{3}{2}} \right]_0^9 = 18 \end{aligned}$$

$$\begin{aligned} \text{(c)} \quad s &= \int_0^9 \sqrt{1 + \left[\left(\frac{2}{3}(x-1)^{\frac{3}{2}} \right)' \right]^2} dx \\ &= \int_0^9 \sqrt{1 + [(x-1)^{\frac{1}{2}}]^2} dx \\ &= \int_0^9 \sqrt{x} dx = \left[\frac{2}{3}x^{\frac{3}{2}} \right]_0^9 = 18 \end{aligned}$$

$$\text{(d)} \quad s = \int_0^2 \sqrt{1 + (2x)^2} dx = \int_0^2 \sqrt{1 + 4x^2} dx \stackrel{\text{TR}}{\approx} 4.647$$

$$\begin{aligned} \text{(c)} \quad s &= \int_0^9 \sqrt{1 + \left[\left(\frac{2}{3}(x-1)^{\frac{3}{2}} \right)' \right]^2} dx \\ &= \int_0^9 \sqrt{1 + [(x-1)^{\frac{1}{2}}]^2} dx \\ &= \int_0^9 \sqrt{x} dx = \left[\frac{2}{3}x^{\frac{3}{2}} \right]_0^9 = 18 \end{aligned}$$

$$\text{(d)} \quad s = \int_0^2 \sqrt{1 + (2x)^2} dx = \int_0^2 \sqrt{1 + 4x^2} dx \stackrel{\text{TR}}{\approx} 4.647$$

$$\text{(e)} \quad s = \int_0^4 \sqrt{1 + \left(\frac{1}{2\sqrt{x}} \right)^2} dx = \int_0^4 \sqrt{1 + \frac{1}{4x}} dx \stackrel{\text{TR}}{\approx} 4.647$$

$$\begin{aligned} \text{(c)} \quad s &= \int_0^9 \sqrt{1 + \left[\left(\frac{2}{3}(x-1)^{\frac{3}{2}} \right)' \right]^2} dx \\ &= \int_0^9 \sqrt{1 + [(x-1)^{\frac{1}{2}}]^2} dx \\ &= \int_0^9 \sqrt{x} dx = \left[\frac{2}{3}x^{\frac{3}{2}} \right]_0^9 = 18 \end{aligned}$$

$$\text{(d)} \quad s = \int_0^2 \sqrt{1 + (2x)^2} dx = \int_0^2 \sqrt{1 + 4x^2} dx \stackrel{\text{TR}}{\approx} 4.647$$

$$\text{(e)} \quad s = \int_0^4 \sqrt{1 + \left(\frac{1}{2\sqrt{x}} \right)^2} dx = \int_0^4 \sqrt{1 + \frac{1}{4x}} dx \stackrel{\text{TR}}{\approx} 4.647$$

$$\text{(f)} \quad s = \int_0^1 \sqrt{1 + (e^x)^2} dx = \int_0^1 \sqrt{1 + e^{2x}} dx \stackrel{\text{TR}}{\approx} 2.003$$

Aufgabe 9

Skizziere die Parameterkurve für $I = [t_1, t_2]$ mit einer geeigneten Software und berechne ihre Bogenlänge.

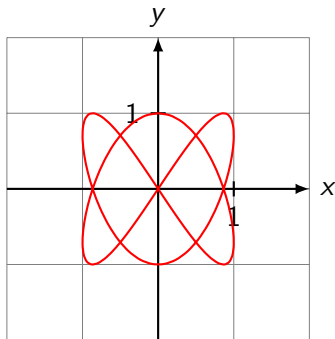
(a) $\vec{r}(t) = \begin{pmatrix} \sin 2t \\ \sin 3t \end{pmatrix}$, $I = [0, 2\pi]$ (mit TR)

(b) $\vec{r}(t) = \begin{pmatrix} \cos^3 t \\ \sin^3 t \end{pmatrix}$, $I = [0, 2\pi]$

Aufgabe 9

$$(a) \quad x(t) = \sin(2t) \quad \Rightarrow \quad \dot{x}(t) = 2 \cos(2t)$$

$$y(t) = \sin(3t) \quad \Rightarrow \quad \dot{y}(t) = 3 \cos(3t)$$

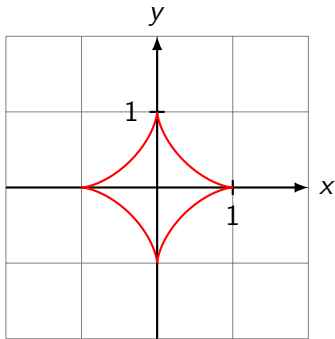


$$s = \int_0^{2\pi} \sqrt{(2 \cos 2t)^2 + (3 \cos 3t)^2} dt$$

$$= \int_0^{2\pi} \sqrt{4 \cos^2(2t) + 9 \cos^2(3t)} dt = 15.29$$

$$(b) \quad x(t) = \sin^3(t) \quad \Rightarrow \quad \dot{x}(t) = -3 \sin^2(t) \cos(t)$$

$$y(t) = \cos^3(t) \quad \Rightarrow \quad \dot{y}(t) = 3 \cos^2(t) \sin(t)$$



$$s = \int_0^{2\pi} \sqrt{(2 \cos 2t)^2 + (3 \cos 3t)^2} dt$$

$$= \int_0^{2\pi} \sqrt{4 \cos^2 2t + 9 \cos^2 3t} dt = 15.29$$

Aufgabe 10

Skizziere die Kurve in Polarform für $I = [\varphi_1, \varphi_2]$ und berechne ihre Bogenlänge.

(a) $r(\varphi) = 1 + 1/2\pi \cdot \varphi, I = [0, 6\pi]$

Aufgabe 10

Skizziere die Kurve in Polarform für $I = [\varphi_1, \varphi_2]$ und berechne ihre Bogenlänge.

(a) $r(\varphi) = 1 + 1/2\pi \cdot \varphi$, $I = [0, 6\pi]$

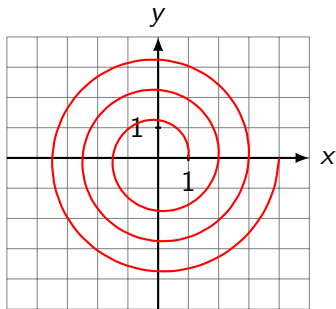
(b) $r(\varphi) = 2 + \sin(6\varphi)$, $I = [0, 2\pi]$

Aufgabe 10

$$(a) \quad r(\varphi) = 1 + \frac{\varphi}{2\pi} \quad \Rightarrow \quad r'(\varphi) = \frac{1}{2\pi}$$

Aufgabe 10

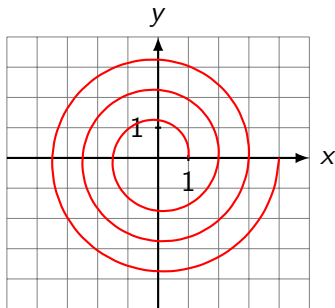
$$(a) \quad r(\varphi) = 1 + \frac{\varphi}{2\pi} \quad \Rightarrow \quad r'(\varphi) = \frac{1}{2\pi}$$



$$s = \int_{\varphi_1}^{\varphi_2} \sqrt{r(\varphi)^2 + r'(\varphi)^2}$$

Aufgabe 10

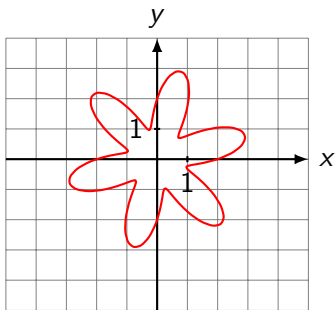
$$(a) \quad r(\varphi) = 1 + \frac{\varphi}{2\pi} \quad \Rightarrow \quad r'(\varphi) = \frac{1}{2\pi}$$



$$\begin{aligned} s &= \int_{\varphi_1}^{\varphi_2} \sqrt{r(\varphi)^2 + r'(\varphi)^2} \\ &= \int_0^{6\pi} \sqrt{\left(1 + \frac{\varphi}{2\pi}\right)^2 + \frac{1}{4\pi^2}} dt \approx 47.23 \end{aligned}$$

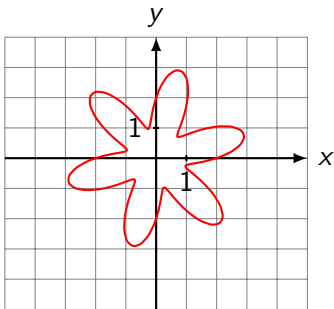
$$(b) \quad r(\varphi) = 2 + \sin(6\varphi) \quad \Rightarrow \quad r'(\varphi) = 6 \cos(6\varphi)$$

$$(b) \quad r(\varphi) = 2 + \sin(6\varphi) \quad \Rightarrow \quad r'(\varphi) = 6 \cos(6\varphi)$$



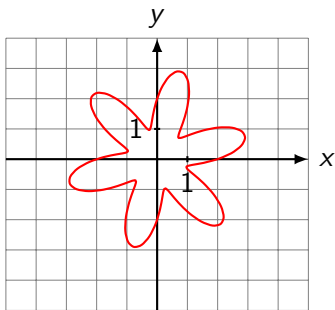
$$s = \int_{\varphi_1}^{\varphi_2} \sqrt{r(\varphi)^2 + r'(\varphi)^2} d\varphi$$

$$(b) \quad r(\varphi) = 2 + \sin(6\varphi) \quad \Rightarrow \quad r'(\varphi) = 6 \cos(6\varphi)$$



$$\begin{aligned} s &= \int_{\varphi_1}^{\varphi_2} \sqrt{r(\varphi)^2 + r'(\varphi)^2} \, d\varphi \\ &= \int_0^{2\pi} \sqrt{(2 + \sin 6\varphi)^2 + (6 \cos 6\varphi)^2} \, d\varphi \end{aligned}$$

$$(b) \quad r(\varphi) = 2 + \sin(6\varphi) \quad \Rightarrow \quad r'(\varphi) = 6 \cos(6\varphi)$$



$$\begin{aligned} s &= \int_{\varphi_1}^{\varphi_2} \sqrt{r(\varphi)^2 + r'(\varphi)^2} \, d\varphi \\ &= \int_0^{2\pi} \sqrt{(2 + \sin 6\varphi)^2 + (6 \cos 6\varphi)^2} \, d\varphi \approx 28.18 \end{aligned}$$