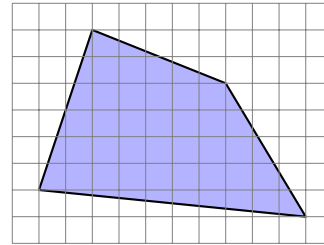
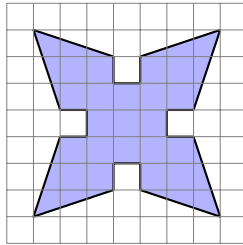
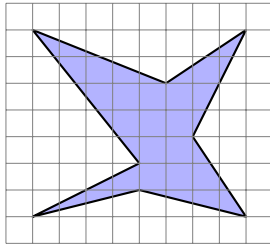


Flächenberechnungen

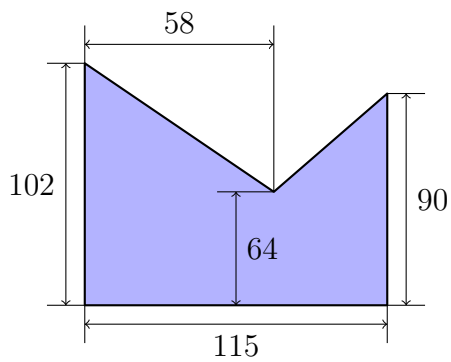
Übungsblatt 6

In den Aufgaben 2-6 wurde die Masseneinheit mm jeweils weggelassen und die Flächen sind nicht massstäblich dargestellt.

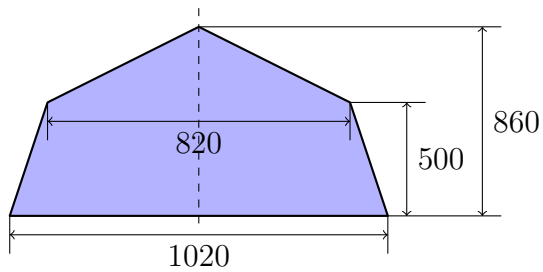
1. Welchen Flächeninhalt haben die folgenden auf kariertes Papier gezeichneten Figuren (ausgedrückt in Anzahl Häuschen).



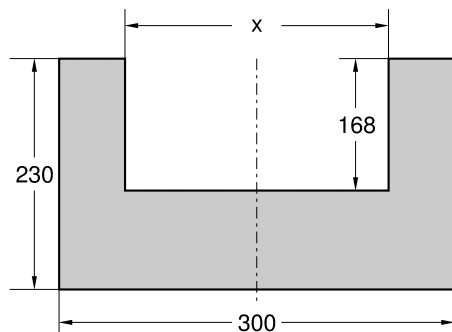
2.



3.

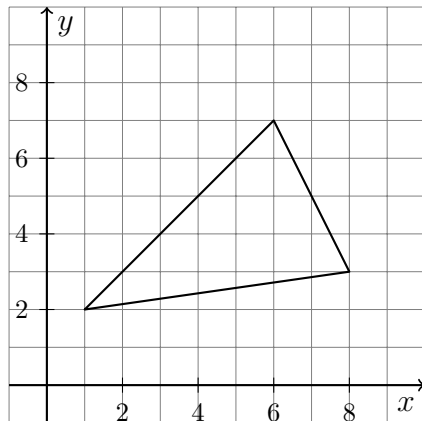


4.

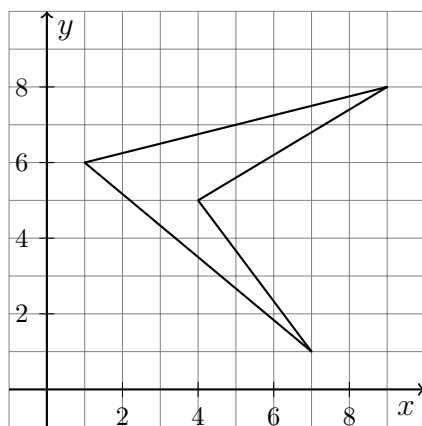


Der Inhalt der grau hervorgehobenen Fläche beträgt 480 cm^2 . Berechne x .

5. Berechne den Flächeninhalt mit der Dreiecksmethode.



6. Berechne den Flächeninhalt mit der Dreiecksmethode.



7. Berechne den Flächeninhalt mit der Dreiecksmethode.

