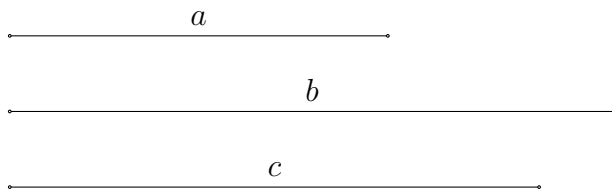
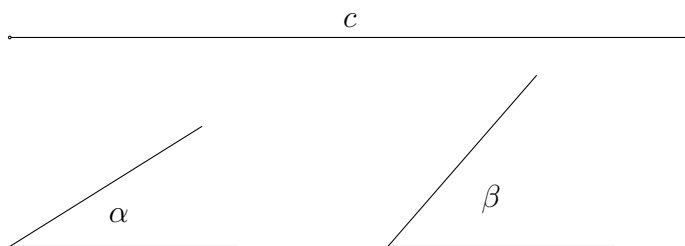


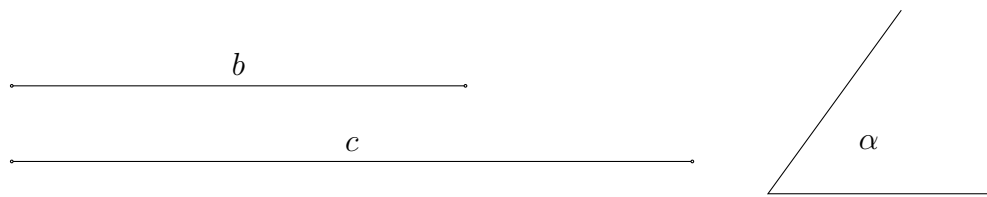
1. Konstruiere das Dreieck mit den Seiten  $a$ ,  $b$  und  $c$ .



2. Konstruiere das Dreieck mit der Seitenlänge  $c$  sowie den Winkeln  $\alpha$  und  $\beta$ .



3. Konstruiere das Dreieck mit den Seitenlängen  $b$  und  $c$  sowie dem Winkel  $\alpha$ .



4. Konstruiere das Dreieck mit den Seitenlängen  $a$  und  $c$  sowie dem Winkel  $\alpha$ .

