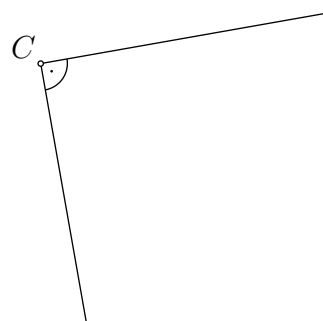
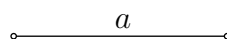
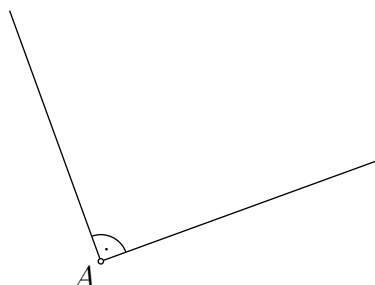
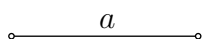
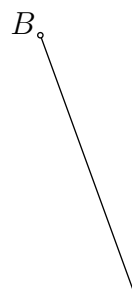
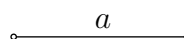
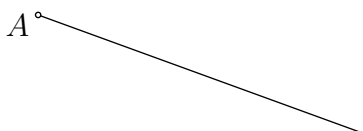
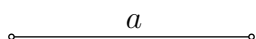


1. Vervollständige die Figuren jeweils zu einem Quadrat $ABCD$ mit der Seitenlänge a . Achte auf die korrekte Beschriftung.

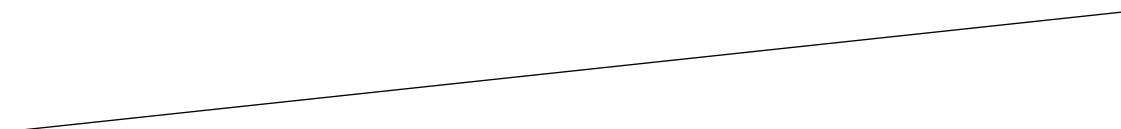


2. Konstruiere ein Quadrat mit der Seitenlänge a . Achte auf die korrekte Beschriftung.

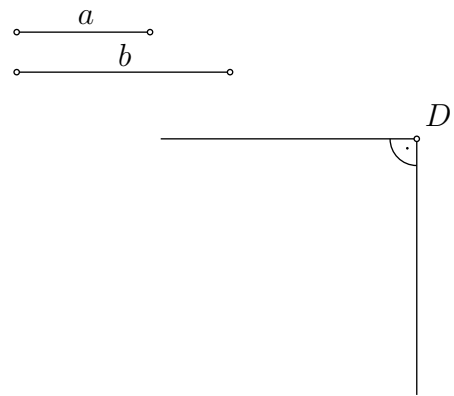
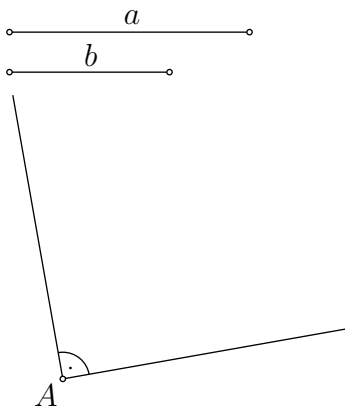


3. Konstruiere ein Quadrat $ABCD$, so dass die Ecken B und C auf der Geraden g liegen.

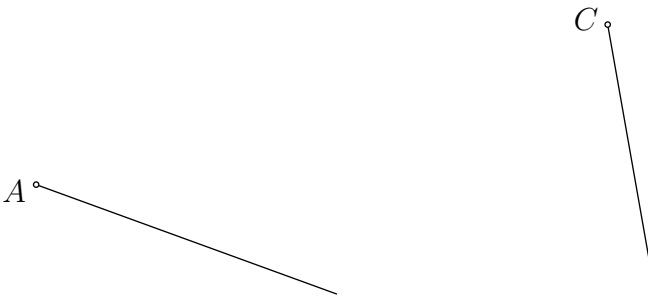
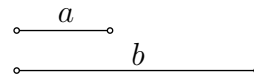
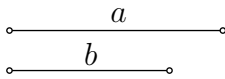
A .



4. Vervollständige die Figuren jeweils zu einem Rechteck $ABCD$ mit den Seitenlängen a und b . Achte auf die korrekte Beschriftung.



5. Konstruiere ein Rechteck mit den Seitenlängen a und b . Achte auf die korrekte Beschriftung.



6. Konstruiere ein Rechteck $ABCD$, so dass die Ecke A auf der Geraden g liegt.

