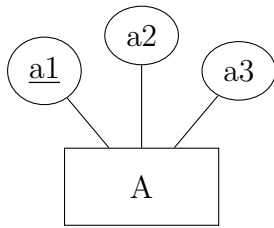


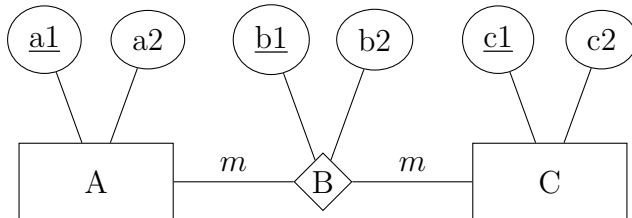
**Aufgabe 1**

Überführe das ERM mittels der Abbildungsregeln in ein korrektes Tabellenschema.



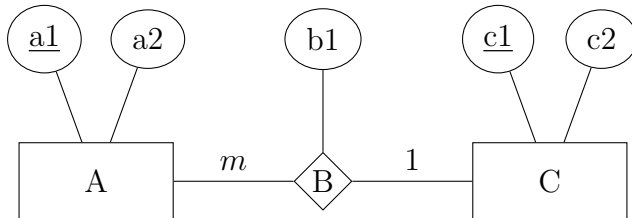
**Aufgabe 2**

Überführe das ERM mittels der Abbildungsregeln in ein korrektes Tabellenschema.



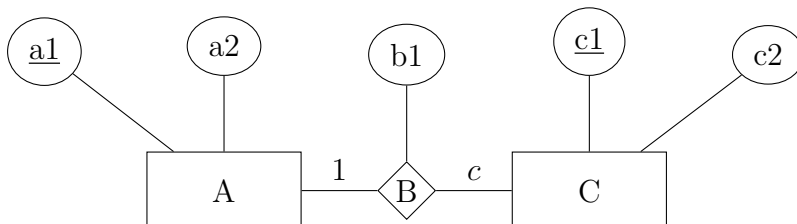
**Aufgabe 3**

Überführe das ERM mittels der Abbildungsregeln in ein korrektes Tabellenschema mit möglichst wenig Tabellen, das ohne NULL-Werte auskommt.



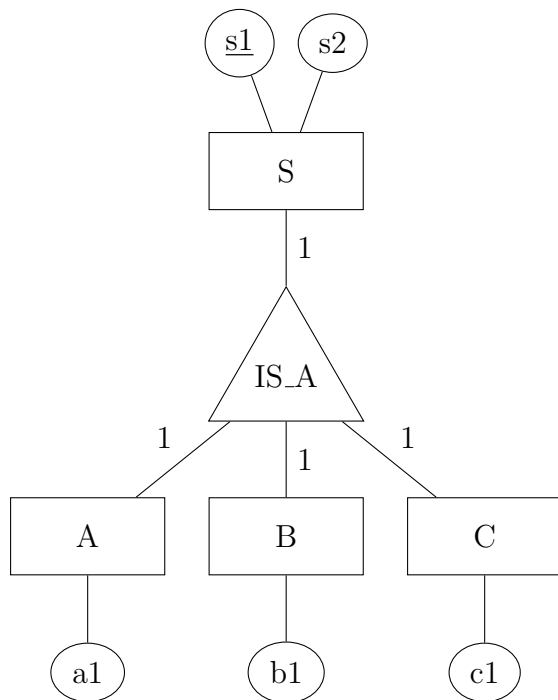
**Aufgabe 4**

Überführe das ERM mittels der Abbildungsregeln in ein korrektes Tabellenschema mit möglichst vielen Tabellen.



### Aufgabe 5

Überführe das ERM mittels der Abbildungsregeln in ein korrektes Tabellenschema. Ergänze, falls nötig, Primärschlüssel und Sorge dafür, dass die disjunkt-vollständige Generalisation anhand von Tabelle S überprüfbar wird.



### Aufgabe 6

Überführe das ERM einer Unternehmensgruppe mittels der Abbildungsregeln in ein korrektes Tabellenschema.

