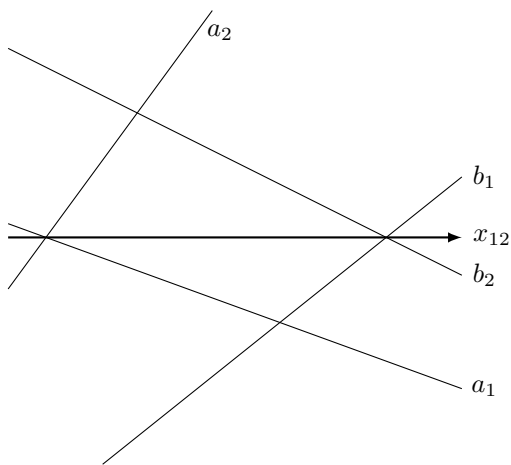


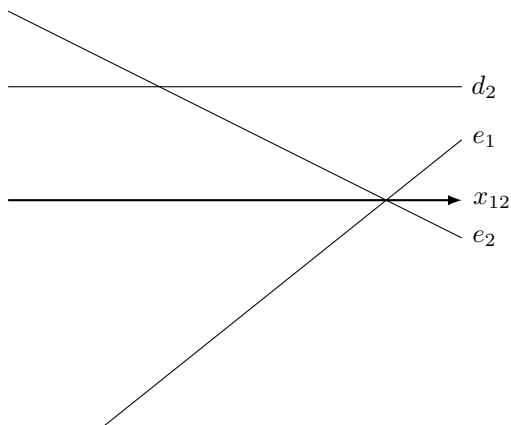
Aufgabe 1

Bestimme die Schnittgerade s der Ebenen α und β .



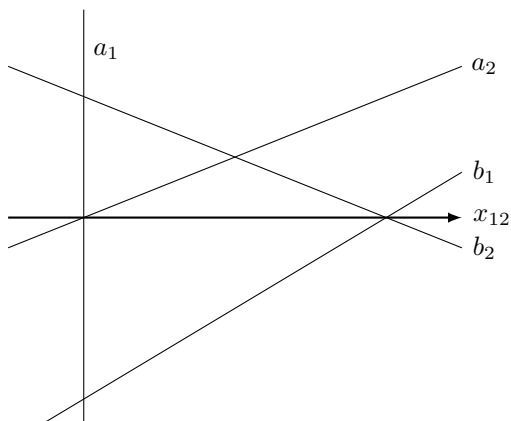
Aufgabe 2

Bestimme die Schnittgerade s der ersten Hauptebene δ und der Ebene ε .




Aufgabe 3

Bestimme die Schnittgerade s der zweitprojizierenden Ebene α und der Ebene β .



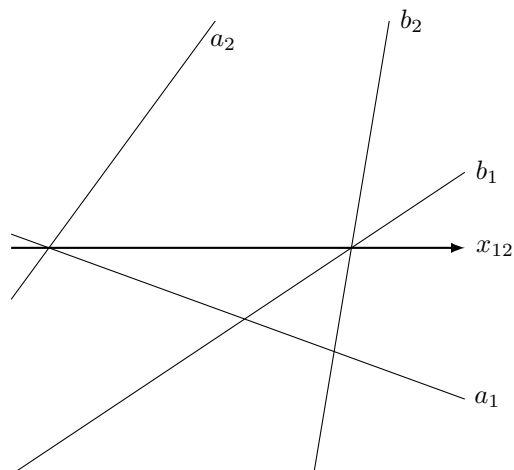
Aufgabe 4

Bestimme die Schnittgerade s der drittprojizierenden Ebenen α und β .



Aufgabe 5

Bestimme die Schnittgerade s der Ebenen α and β .



Aufgabe 6

Bestimme die Schnittgerade s der Ebenen $\varepsilon = (a, b)$ und $\delta = (g, h)$.

