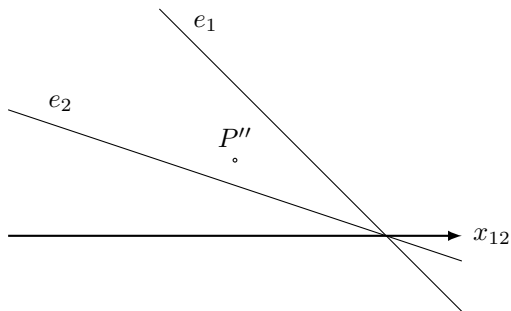


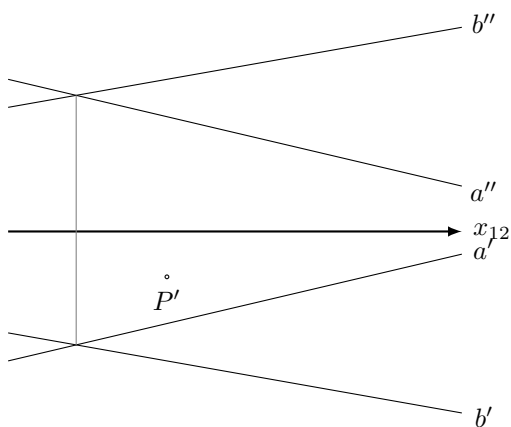
Aufgabe 1

Konstruiere den zweiten Riss des Punktes P , so dass $P \in \varepsilon$.



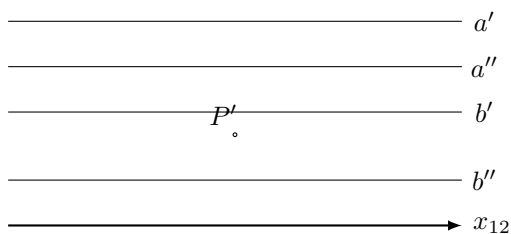
Aufgabe 2

Konstruiere den zweiten Riss des Punktes P , so dass $P \in \varepsilon(a, b)$.



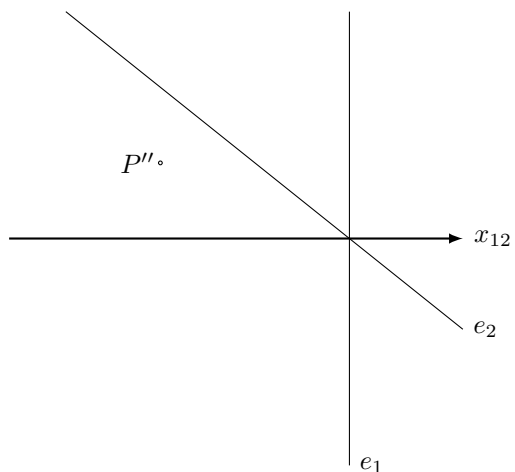
Aufgabe 3

Konstruiere den zweiten Riss des Punktes P , so dass $P \in \varepsilon(a, b)$.



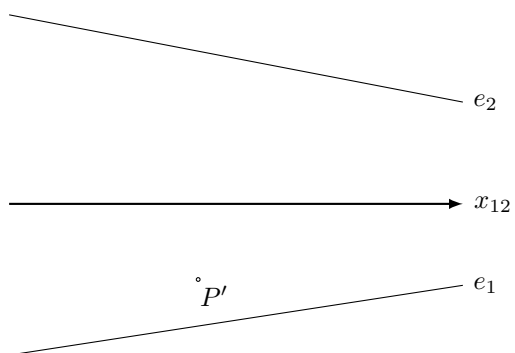
Aufgabe 4

Konstruiere den zweiten Riss des Punktes P , so dass $P \in \varepsilon$.



Aufgabe 5

Konstruiere den zweiten Riss des Punktes P , so dass $P \in \varepsilon$.



Aufgabe 6

Konstruiere die zweite Spur der Ebene ε , so dass $P \in \varepsilon$ liegt.

