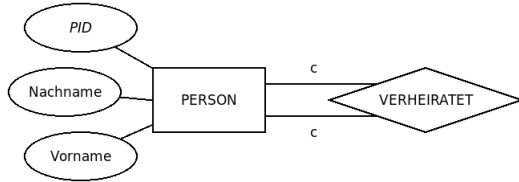


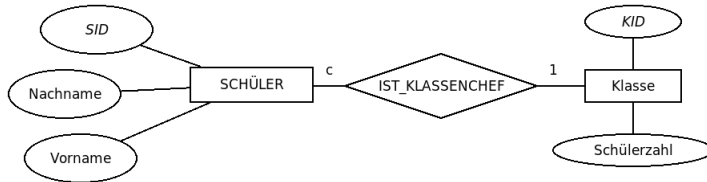
Aufgabe 3.1

Überführe das ERM in ein Tabellenschema mit minimaler und mit maximaler Tabellenzahl. Begründe, welche Variante hier sinnvoller ist.



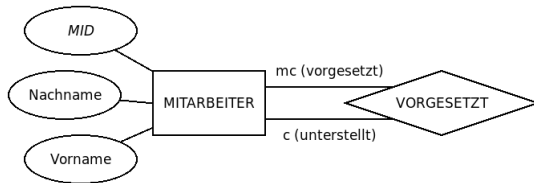
Aufgabe 3.2

Überführe das ERM in ein möglichst einfaches Tabellenschema mit minimaler Tabellenzahl.



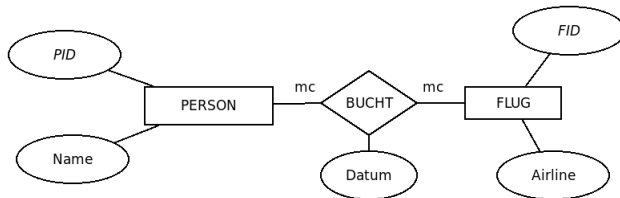
Aufgabe 3.3

Überführe das ERM in ein Tabellenschema mit maximaler Tabellenzahl.



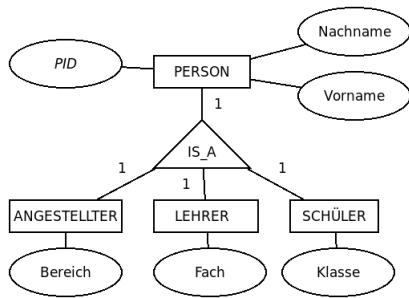
Aufgabe 3.4

Überführe das ERM in ein Tabellenschema mit minimaler Tabellenzahl.



Aufgabe 3.5

Überführe das ERM in ein Tabellenschema und Beschreibe diese diese Art von Beziehung mit einem Fachausdruck.



Aufgabe 3.6

Überführe das ERM in ein Tabellenschema und beschreibe die Art dieser Beziehung mit einem Fachausdruck.

