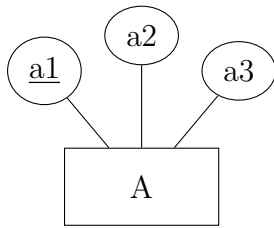


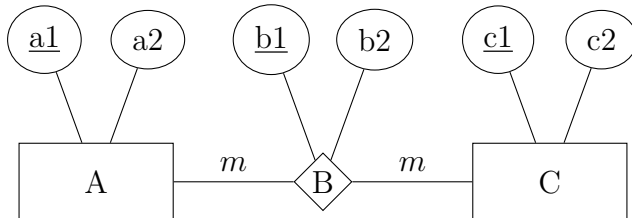
Aufgabe 1

Überführe das ERM mittels der Abbildungsregeln in ein korrektes Tabellenschema.



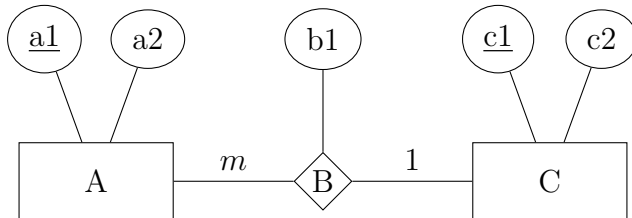
Aufgabe 2

Überführe das ERM mittels der Abbildungsregeln in ein korrektes Tabellenschema.



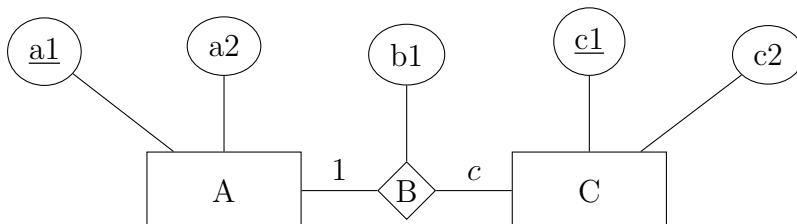
Aufgabe 3

Überführe das ERM mittels der Abbildungsregeln in ein korrektes Tabellenschema mit möglichst wenig Tabellen, das ohne NULL-Werte auskommt.



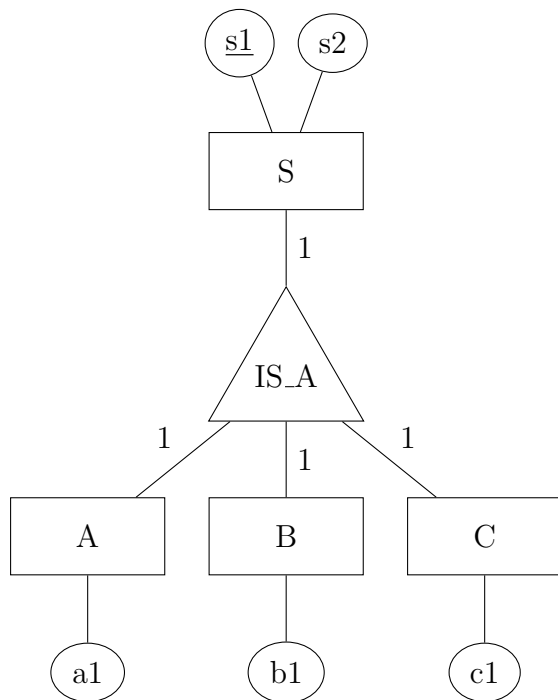
Aufgabe 4

Überführe das ERM mittels der Abbildungsregeln in ein korrektes Tabellenschema mit möglichst vielen Tabellen.



Aufgabe 5

Überführe das ERM mittels der Abbildungsregeln in ein korrektes Tabellenschema. Ergänze, falls nötig, Primärschlüssel und Sorge dafür, dass die disjunkt-vollständige Generalisation anhand von Tabelle S überprüfbar wird.



Aufgabe 6

Überführe das ERM einer Unternehmensgruppe mittels der Abbildungsregeln in ein korrektes Tabellenschema.

